



# Rechenrätsel 1




1. Welche Zahl erhalte ich, wenn ich die Zahlen 18, 54 und 103 addiere ? 


Antwort: \_\_\_\_\_  
\_\_\_\_\_

2. Von welcher Zahl muss ich die Zahl 98 subtrahieren, wenn ich 64 erhalten will? 


Antwort: \_\_\_\_\_  
\_\_\_\_\_

3. Wenn ich vier Zahlen addiere, dann erhalte ich 300. Die ersten drei Zahlen heißen 31, 165 und 87. Wie heißt die vierte Zahl? 

Antwort: \_\_\_\_\_  
\_\_\_\_\_

4. Ich denke mir eine Zahl. Wenn ich zu dieser Zahl 76 addiere und dann 22 subtrahiere, dann erhalte ich 86. 

Antwort: \_\_\_\_\_  
\_\_\_\_\_

5. Ich addiere 77 und 88. Wie heißt die Zahl, die ich danach subtrahieren muss, wenn ich 99 erhalten will? 

Antwort: \_\_\_\_\_  
\_\_\_\_\_

*Rechne die Aufgaben in deinem Heft. Übertrage den Antwortsatz dann auf dieses Blatt. Für jede Aufgabe, die du bearbeitet hast, darfst du die Sterne am Rand der Aufgabe anmalen.*