
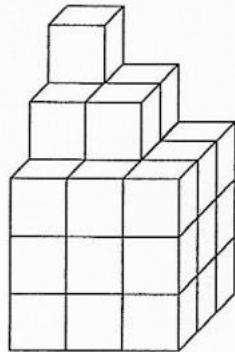

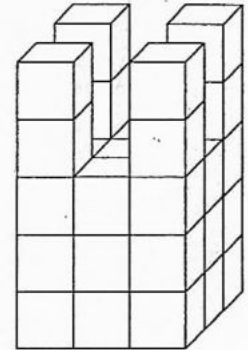



- ① a) Ergänze die Baupläne.
 b) Wie viele Würfel benötigst du zum Nachbauen?
 c) Baue die Türme nach.

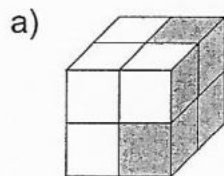


_____ Würfel

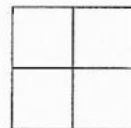


_____ Würfel

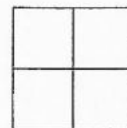
- ② Wie sieht der Würfel aus, wenn du von den verschiedenen Seiten auf ihn blickst?



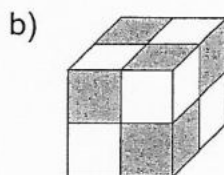
von vorn:



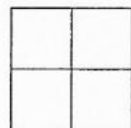
von oben:



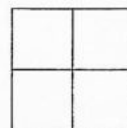
von rechts:



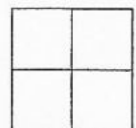
von vorn:



von oben:



von rechts:



- ③ Zeichne die Ansichten des Würfelgebäudes.

