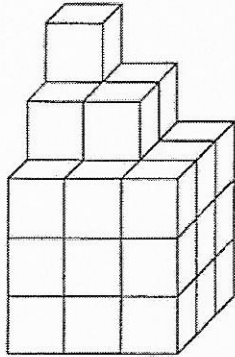



- ① a) Ergänze die Baupläne.  
 b) Wie viele Würfel benötigst du zum Nachbauen?  
 c) Baue die Türme nach.

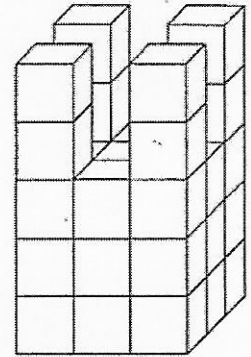


5	4	3
4	4	3
3	3	3

32 Würfel



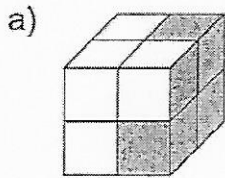

3	2	3
2	3	2
3	2	3




5	3	5
3	3	3
5	3	5

35 Würfel

- ② Wie sieht der Würfel aus, wenn du von den verschiedenen Seiten auf ihn blickst?



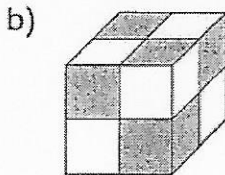
von vorn:




von oben:



von rechts:




von vorn:



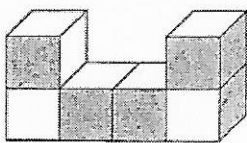
von oben:




von rechts:




- ③ Zeichne die Ansichten des Würfelgebäudes.



von vorn:



von oben:



von rechts:

