



① a) Wie viele Würfel benötigst du zum Bauen? Schreibe jeweils die Anzahl auf.

A



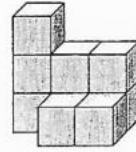
\_\_\_ Würfel

B



\_\_\_ Würfel


C



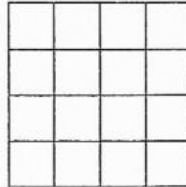
\_\_\_ Würfel

b) Schreibe zu jedem Würfelbau den Bauplan auf.


A



B

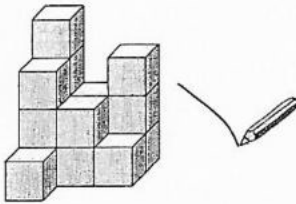


C

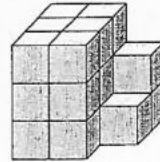


② Ordne den Bauten den richtigen Bauplan zu. Verbinde.

a)



b)



4	2	3
3	2	1
2	0	0

4	2	3
3	2	1
1	0	0

5	2	3
3	2	1
1	0	0

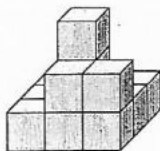
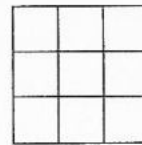
3	3	2
3	3	2
3	3	1

3	3	0
3	3	1
3	3	2

3	3	2
3	3	1
3	3	0

③ Schreibe die gesuchten Baupläne auf.

a) Du betrachtest den Bau von **vorn**.



b) Du betrachtest den Bau von **rechts**.

