


Wie viele Würfel sind es?

Wie viele Würfel fehlen noch, wenn du einen großen Würfel bauen willst?



11

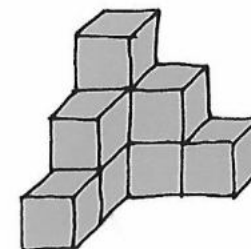
Würfel sind es.

16

Würfel fehlen.

27

Würfel sind es
zusammen.



9


Würfel

18

fehlen

27

zusammen



28

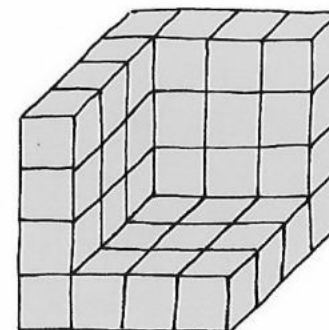
Würfel

36

fehlen

64

zusammen



37

Würfel

27

fehlen

64

zusammen